



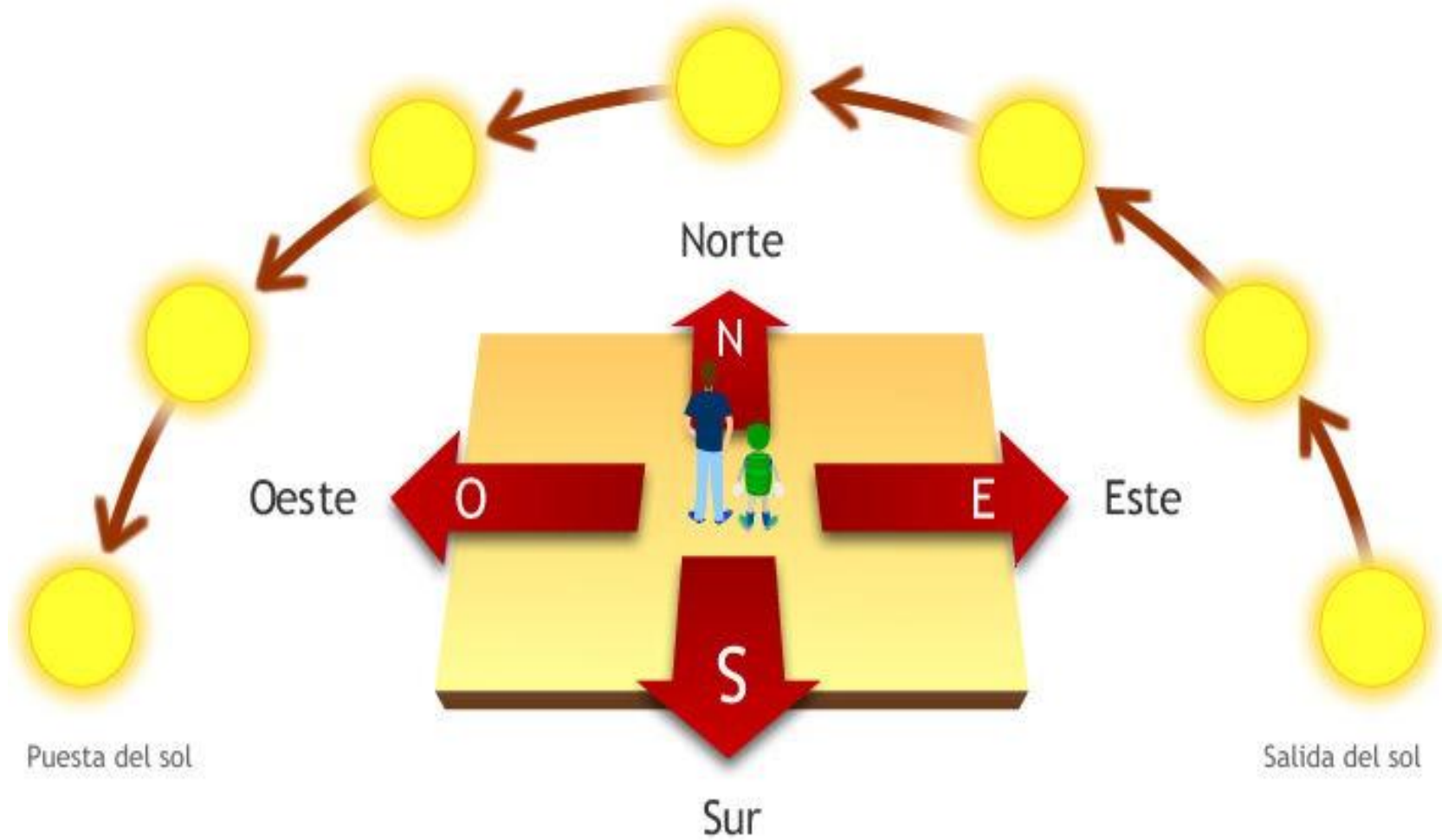
# ¿Dónde se ubica Chile?

---

Objetivo: Ubicar Chile, Santiago, la propia región y su capital en el globo terráqueo o en mapas, y describir la ubicación relativa de países limítrofes y de otros países de América del Sur, utilizando los puntos cardinales. (OA7)

Habilidades: Orientarse - comunicar

# Puntos cardinales




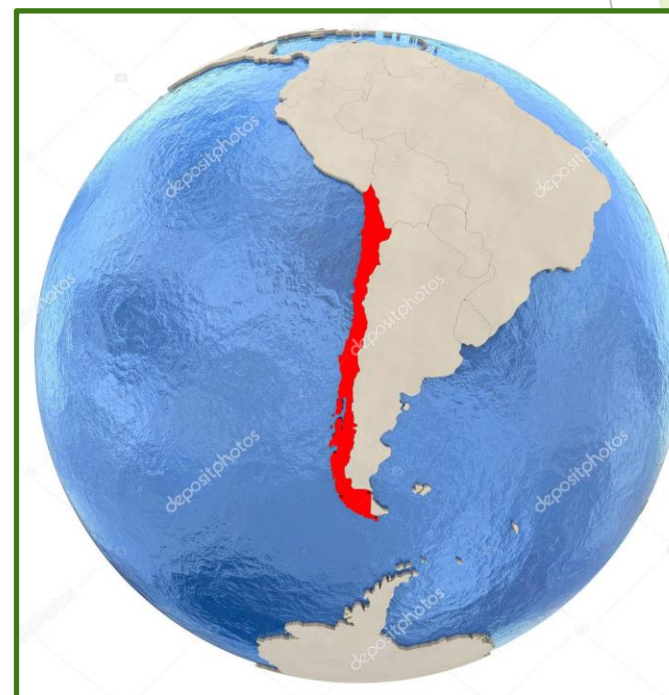
# Recordemos...

## ¿Dónde se ubica Chile?

En el planisferio



En el globo terráqueo



Preguntas:

1. ¿En cuál continente se ubica Chile?
2. Nombra los países que limitan con Chile.
3. ¿Con cuál o cuáles países limita Chile en el Norte?
4. ¿Con cuál o cuáles países limita Chile en el Oeste?
5. ¿Con quién limita Chile en el Sur?
6. ¿Con quién limita Chile en el Este?
7. ¿Para qué sirven los puntos cardinales?
8. Si estuvieras en Colombia y alguien te pregunta dónde se encuentra Chile, ¿Qué indicaciones le darías? (utilizando los puntos cardinales)



Observemos el siguiente video:  
(ubicar a Chile en un mapa)



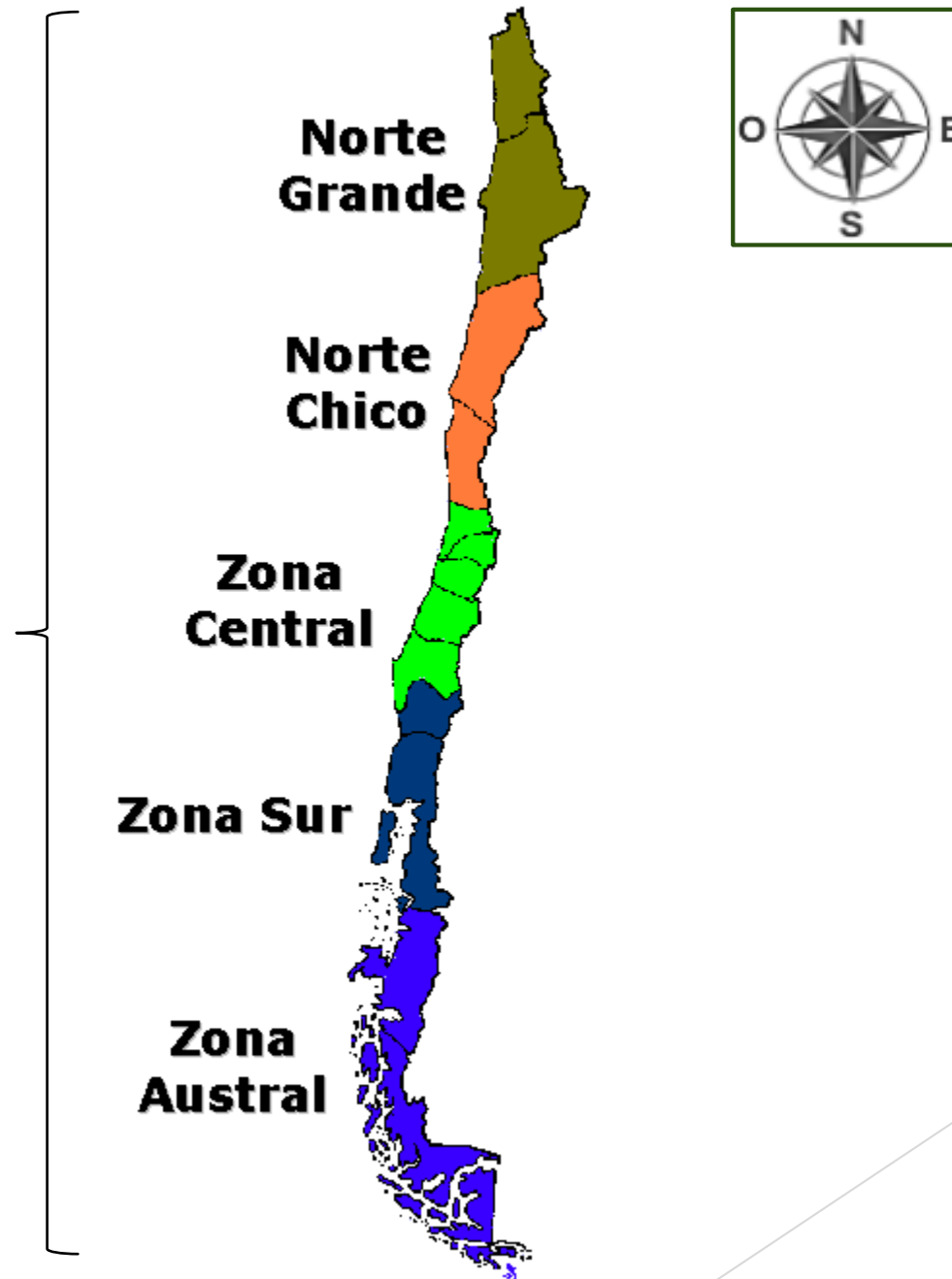
<https://www.youtube.com/watch?v=B0FZnMxhV0I>

La capital de Chile  
y la ciudad dónde  
vivimos

¿Cómo se llama la  
Región dónde vivimos?  
¿Y su capital?



# Las zonas naturales



Observemos los siguientes videos:  
(zonas naturales)



<https://www.youtube.com/watch?v=C-TARZQUJ04>

<https://www.youtube.com/watch?v=wOfj9GEvETE>



# Preguntas de cierre

- ▶ ¿Cómo se llama la capital de Chile?
- ▶ ¿Cuál es el nombre de la región dónde vives?
- ▶ ¿Cuál es la capital de esa región?
- ▶ ¿Cuántas zonas naturales tiene Chile?
- ▶ Nómbralas.

**¡Lo hicieron excelente!**